








S6: Aufgabenblatt 1

Ordne folgende PS – Zahlen den Bildern zu:

75 PS	160 PS	400 PS	430 PS	610 PS	33'000 PS	110'000 PS
-------	--------	--------	--------	--------	-----------	------------

	Audi R8 V10 plus	
	Skoda Fabia Combi	
	Piper Warrior III (3 - 4 plätziges Schul- und Reiseflugzeug)	
	Boeing 737 (Verkehrsflugzeug)	
	Containerschiff Emma Maersk	
	Motorboot MASTERCRAFT X46	
	Traktoren John Deere 8400R	