







S6: Aufgabenblatt 1

Ordne folgende PS – Zahlen den Bildern zu:

75 PS	160 PS	400 PS	430 PS	610 PS	33'000 PS	110'000 PS
	Audi R8 V10 plus 610 PS	http://www.autobild.de/artikel/audi-r8-v10-plus-test-fahrbericht-5637406.html?zanpid=2323124803277792256				
	Skoda Fabia Combi 75 PS	http://www.autobild.de/artikel/skoda-fabia-combi-2015-fahrbericht-5357684.html?zanpid=2323124398712005632				
	Piper Warrior III (3 - 4 plätziges Schul- und Reiseflugzeug) 160 PS	http://www.fliegen.ch/vermietung/flotte-motorflug.php				
	Boeing 737 (Verkehrsflugzeug) 33.000 PS.	https://de.wikipedia.org/wiki/Sc_hub				
	Containerschiff Emma Maersk 110'000 PS	https://www.ke-next.de/specials/schiffbau/containerschiff-emma-maersk-mit-110-000-ps-uber-die-ozeane-220.html				
	Motorboot MASTERCRAFT X46 430 PS	https://www2.best-boats24.net/de/boote-kaufen/details/0d6gmff/				
	Traktoren John Deere 8400R 400PS	https://www.deere.de/de_DE/products/equipment/tractors/8r_series/8400r/8400r.page?				